



CONCURSO PÚBLICO PARA PROVIMENTO DE CARGOS DO DEPARTAMENTO DE ÁGUA E ESGOTO – DEMAE DE CAMPO BELO

Edital Nº 01 / 2019

AUXILIAR DE MANUTENÇÃO E REPAROS

Código: 101

LEIA COM ATENÇÃO AS SEGUINTE INSTRUÇÕES

1. Este caderno contém as questões da **Prova Objetiva**.
2. Use a **Folha de Respostas** (versão do Candidato) reproduzida ao final deste caderno apenas para marcar o Gabarito.
3. Ao receber a **Folha de Respostas** da **Prova Objetiva**:
 - Confira seu nome, número de inscrição e cargo.
 - Assine, **A TINTA**, no espaço próprio indicado.

4. **ATENÇÃO:** transcreva no espaço apropriado da sua **FOLHA DE RESPOSTAS**, com sua caligrafia usual, mantendo as letras maiúsculas e minúsculas, desconsiderando aspas e autoria, a seguinte frase:

“Viver significa lutar.” Sêneca

ATENÇÃO:

FOLHA DE RESPOSTAS SEM ASSINATURA NÃO TEM VALIDADE.

5. Ao transferir as respostas para a **Folha de Respostas**:

01 • use apenas caneta esferográfica azul ou preta.

02 • preencha, sem forçar o papel, toda a área reservada à letra correspondente à resposta solicitada em cada questão.

03 • assinale somente **uma** alternativa em cada questão.

04 Sua resposta **NÃO** será computada se houver marcação de mais de uma alternativa, questões não assinaladas ou rasuras.

NÃO DEIXE NENHUMA QUESTÃO SEM RESPOSTA.

A **Folha de Respostas** não deve ser dobrada, amassada ou rasurada.

ATENÇÃO: Período de Sigilo – Não será permitido ao candidato se ausentar em definitivo da sala de provas antes de decorrida 1 (uma) hora do início das provas. O candidato não poderá fazer anotação de questões ou informações relativas às suas respostas no Comprovante Definitivo de Inscrição (CDI) ou em quaisquer outros meios, que não os permitidos no Edital e especificados na capa da prova. Os candidatos não poderão utilizar, em hipótese alguma, lápis, lapiseira, corretivos, borracha ou lápis-borracha ou outro material distinto do constante no item 9.3.11 do Edital. Será proibido, durante a realização das provas, fazer uso ou portar, mesmo que desligados, telefone celular, relógios, *paggers*, *beep*, agenda eletrônica, calculadora, *walkman*, *notebook*, *palmtop*, gravador, transmissor / receptor de mensagens de qualquer tipo ou qualquer outro equipamento eletrônico, podendo a organização deste Concurso Público vetar o ingresso do candidato com outros aparelhos além dos anteriormente citados. Será vedado ao candidato o porte de arma(s) no local de realização das provas, ainda que de posse de documento oficial de licença para o respectivo porte. Durante o período de realização das provas, não será permitida qualquer espécie de consulta ou comunicação entre os candidatos ou entre estes e pessoas estranhas, oralmente ou por escrito, assim como não será permitido o uso de livros, códigos, manuais, impressos, anotações ou quaisquer outros meios. Durante o período de realização das provas, não será permitido o uso de óculos escuros, boné, chapéu, gorro, lenço ou similares. O candidato não poderá levar o seu Caderno de Questões da Prova Objetiva. Não haverá substituição da Folha de Respostas da Prova Objetiva por erro do candidato. Ao término do prazo estabelecido para a prova, os três últimos candidatos deverão permanecer na sala até que o último candidato termine sua prova, devendo todos assinar a Ata de Sala, atestando a idoneidade da fiscalização das provas, retirando-se da sala de prova de uma só vez.

O Caderno de Questões e o Gabarito da Prova Objetiva serão divulgados no endereço eletrônico
<www.gestaodeconcursos.com.br> no dia 1º de julho de 2019.

DURAÇÃO MÁXIMA DA PROVA: 3 (TRÊS) HORAS

ATENÇÃO

Sr.(a) Candidato(a),

Antes de começar a fazer a prova, confira se este caderno contém, ao todo, **20 (vinte)** questões de múltipla escolha, cada uma constituída de 4 (quatro) alternativas de respostas, assim distribuídas: 10 (dez) questões de **Língua Portuguesa**, 5 (cinco) questões de **Atualidades** e 5 (cinco) questões de **Matemática e Raciocínio Lógico**, todas perfeitamente legíveis.

Havendo algum problema, informe **imediatamente** ao aplicador de provas para que ele tome as providências necessárias.

Caso não observe essa recomendação, não lhe caberão quaisquer reclamações ou recursos posteriores.

INSTRUÇÃO: Leia o texto a seguir para responder às questões de 1 a 5.

O cajueiro

Rubem Braga

O cajueiro já devia ser velho quando nasci. Ele vive nas mais antigas recordações de minha infância: belo, imenso, no alto do morro atrás da casa. Agora vem uma carta dizendo que ele caiu.

Eu me lembro do outro cajueiro que era menor e morreu há muito tempo. Eu me lembro dos pés de pinha, do cajá-manga, da grande touceira de espadas-de-são-jorge (que nós chamávamos simplesmente “tala”) e da alta saboneteira que era nossa alegria e a cobiça de toda a meninada do bairro porque fornecia centenas de bolas pretas para o jogo de gude. Lembro-me da tamareira, e de tantos arbustos e folhagens coloridas, lembro-me da parreira que cobria o caramanchão, e dos canteiros de flores humildes, “beijos”, violetas. Tudo sumira; mas o grande pé de fruta-pão ao lado da casa e o imenso cajueiro lá no alto eram como árvores sagradas protegendo a família. Cada menino que ia crescendo ia aprendendo o jeito de seu tronco, a cica de seu fruto, o lugar melhor para apoiar o pé e subir pelo cajueiro acima, ver de lá o telhado das casas do outro lado e os morros além, sentir o leve balanceio na brisa da tarde.

No último verão ainda o vi; estava como sempre carregado de frutos amarelos, trêmulo de sanhaços. Chovera: mas assim mesmo fiz questão de que Carybé subisse o morro para vê-lo de perto, como quem apresenta a um amigo de outras terras um parente muito querido.

A carta de minha irmã mais moça diz que ele caiu numa tarde de ventania, num fragor tremendo pela ribanceira; e caiu meio de lado, como se não quisesse quebrar o telhado de nossa velha casa.

Diz que passou o dia abatida, pensando em nossa mãe, em nosso pai, em nossos irmãos que já morreram. Diz que seus filhos pequenos se assustaram; mas foram brincar nos galhos tombados.

Foi agora, em fins de setembro. Estava carregado de flores.

Setembro, 1954.

Cem crônicas escolhidas. Rio de Janeiro: José Olímpio, 1956.

QUESTÃO 1

Analise este trecho.

“Ele vive nas mais antigas recordações de minha infância: belo, imenso, no alto do morro atrás da casa.”

Nesse trecho, os dois-pontos foram utilizados para

- A) indicar a fala de alguém.
- B) demonstrar uma surpresa.
- C) sinalizar uma pergunta.
- D) anunciar uma explicação.

QUESTÃO 2

Analise a sequência de palavras a seguir.

Cajá-manga / família / humildes / saboneteira /
sagradas / tamareira / tempo
/ _____ / tombadas

Considerando as regras de ordem alfabética, assinale a alternativa que completa corretamente essa sequência.

- A) Toda
- B) Telhado
- C) Touceira
- D) Tronco

QUESTÃO 3

No trecho “No último verão ainda o vi.”, a palavra ‘o’ substitui

- A) menino.
- B) caramanchão.
- C) cajueiro.
- D) fruto.

QUESTÃO 4

Releia este trecho.

“A carta de minha irmã mais moça diz que ele caiu numa tarde de ventania, num **fragor** tremendo pela ribanceira; e caiu meio de lado, como se não quisesse quebrar o telhado de nossa velha casa.”

A palavra ‘fragor’, nesse contexto, tem sentido contrário ao de

- A) barulho.
- B) silêncio.
- C) estrondo.
- D) soada.

QUESTÃO 5


A letra “z” na palavra ‘dizendo’ tem som de [z].

Assinale a alternativa em que na palavra, apesar de não ser escrita com “z”, também se tem esse som.

- A) Excesso
- B) Enxaqueca
- C) Próximo
- D) Executar

QUESTÃO 6

Analise a propaganda a seguir.



Disponível em: <encurtador.com.br/ryCV1>.
Acesso em: 23 maio 2019.

A partir da análise dessa propaganda, pode-se inferir que

- A) o trabalho escravo nunca irá ter fim.
- B) pessoas sempre irão dominar outras pessoas.
- C) a leitura e o pensamento crítico são formas de se libertar do trabalho escravo.
- D) o trabalho escravo terminará com a mudança da Lei.

QUESTÃO 7

Considerando a norma-padrão, assinale a alternativa em que há erro no uso da pontuação.

- A) Carlos foi ao supermercado ontem à noite, e Maria foi hoje pela manhã.
- B) Falando com Pedro diga-o que Clara o espera!
- C) Lara trabalha no fim de semana, e não às segundas-feiras.
- D) Fui àquela loja para comprar blusas, calças e um lindo vestido.

QUESTÃO 8

Analise este texto.

FLUVIRAL

HYPERMARCAS



Atualizado em 08/12/2014

FLUVIRAL

Paracetamol
Maleato de clorfeniramina
Cloridrato de fenilefrina

1. Forma Farmacêutica e Apresentação de Fluviral

Cartucho com 25 blísteres com 6 comprimidos.

2. Composição de Fluviral

Cada comprimido contém: Paracetamol 400 mg
Maleato de clorfeniramina 4 mg
Cloridrato de fenilefrina 4 mg

3. Indicações de Fluviral

Rápido alívio dos sintomas das gripes e resfriados. Para alívio das dores de cabeça, febre, rinite, tosse, dores musculares, coriza e congestão nasal.

4. Contra-Indicações de Fluviral

Pacientes com hipersensibilidade conhecida a qualquer dos componentes da fórmula. Não deverá ser administrados durante os três primeiros meses de gravidez e após esse período deverá ser administrado nos casos de necessidade sob controle médico.

Disponível em: <encurtador.com.br/crJKV>.

Acesso em: 23 maio 2019.

Os gêneros textuais surgem a partir dos tipos textuais.

Considerando o tipo textual de que vem esse texto, pode-se afirmar que ele tem a finalidade de

- A) orientar sobre a utilização de um produto.
- B) expor a definição de um produto.
- C) defender um ponto de vista sobre um produto.
- D) descrever determinado produto.

QUESTÃO 9

Leia este poema.

Canção

Não te fies do tempo nem da eternidade,
que as nuvens me puxam pelos vestidos
que os ventos me arrastam contra o meu desejo!
Apressa-te, amor, que amanhã eu morro,
que amanhã morro e não te vejo!

MEIRELES, Cecília. Disponível em: <https://www.culturagenial.com/maiores-poemas-de-amor-literatura-brasileira/>.
Acesso em: 23 maio 2019. [Fragmento].

Nos versos "Apressa-te, amor, que amanhã eu morro, / que amanhã morro e não te vejo!", a palavra 'que' tem o sentido

- A) conclusivo, uma vez que, se a pessoa não se apressar, outra irá morrer.
- B) condicional, uma vez que, se uma pessoa não se apressar, outra irá morrer.
- C) temporal, uma vez que uma pessoa tem pouco tempo de vida e não pode esperar pela outra.
- D) explicativo, uma vez que apresenta a razão pela qual a pessoa deve se apressar.

QUESTÃO 10

Analise a imagem a seguir.



Disponível em: <http://www.portalnews.com.br/_conteudo/2015/08/opiniaio/9265-charge.html>.
Acesso em: 22 maio 2019.

Dois dos muitos conceitos da palavra 'sonho' são trabalhados nessa charge.

Assinale a alternativa em que se tem um desses conceitos, segundo o dicionário *online Michaelis*.

- A) "Conjunto de sensações, percepções e representações mais ou menos realistas, geralmente visuais, que aparecem durante o sono, de caráter confuso ou incoerente."
- B) "Coisa ou pessoa muito bonita; visão."
- C) "Espécie de bolo muito fofo, preparado com massa de farinha de trigo cozida, leite e ovos, que se frita em gordura quente e que, depois, se passa em açúcar, podendo também levar recheio."
- D) "Sequência de ideias vãs e incoerentes às quais o espírito se entrega."

ATUALIDADES

QUESTÃO 11

Na Praça Rui Barbosa, importante local de encontro para o campo-belense, localiza-se a Fundação Casa da Cultura de Campo Belo, ocupando o edifício que anteriormente funcionava como

- A) rodoviária.
- B) museu.
- C) prefeitura.
- D) fórum.

QUESTÃO 12

A definição de saneamento básico inclui vários serviços fundamentais para a qualidade de vida de uma população.

De acordo com a Lei 11.445/07 – Lei Federal do Saneamento Básico, os serviços de saneamento básico compreendem:

- A) Recuperação de áreas degradadas.
- B) Administração e fiscalização do trânsito de veículos.
- C) Abastecimento público de água potável.
- D) Aplicação de multa ambiental.

QUESTÃO 13

As manifestações culturais do Estado de Minas Gerais estão, em grande parte, relacionadas à tradição católica mantida desde o período colonial.

Entre as manifestações religiosas relacionadas a essa tradição destaca-se a:

- A) Festa do peão.
- B) Folia de Reis.
- C) Festa do Boi-Bumbá
- D) Festa da Primavera.

QUESTÃO 14

O ribeirão que motivou a escolha do nome do antigo povoado que hoje constitui o município de Campo Belo é:

- A) São João.
- B) Serra Azul.
- C) Bom Jardim.
- D) Piraúba.

QUESTÃO 15

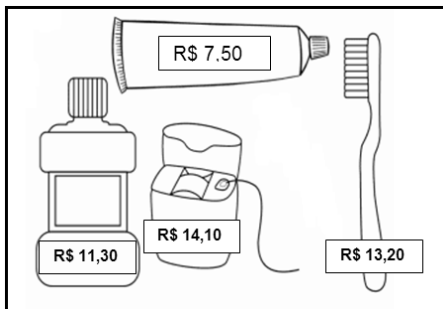
O nome do afluente do Rio Grande que atravessa o município de Campo Belo é

- A) Rio das Mortes.
- B) Rio Sapucaí.
- C) Rio Jacaré.
- D) Rio Prado.

MATEMÁTICA E RACIOCÍNIO LÓGICO

QUESTÃO 16

Elisa foi a uma drogaria e comprou os produtos de higiene pessoal apresentados na figura a seguir.



Se ela pagou por esses produtos com uma nota de R\$ 100,00, quanto ela recebeu de troco?

- A) R\$ 46,10
- B) R\$ 53,90
- C) R\$ 61,40
- D) R\$ 67,10

QUESTÃO 17

As duas turmas de 9º ano do Ensino Fundamental da escola Semear fizeram, juntas, uma excursão ao zoológico. A tabela a seguir apresenta a quantidade de alunos que foram a essa excursão.

TURMAS	NUMERO DE ALUNOS
Turma A	Meninos: 15
	Meninas: 19
Turma B	Meninos: 21
	Meninas: 18

Quantos alunos da turma B foram a mais que os alunos da turma A nessa excursão?

- A) 3
- B) 4
- C) 5
- D) 6

QUESTÃO 18

Observe a sequência numérica a seguir.

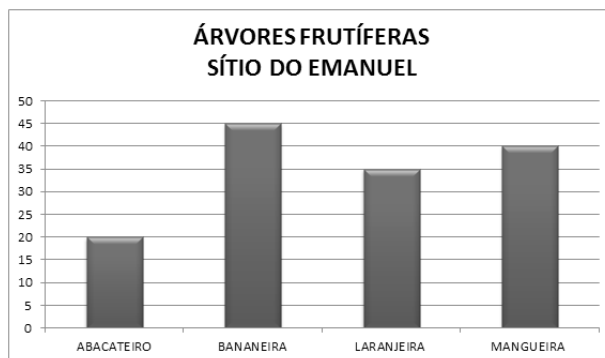


O número que completa corretamente essa sequência é:

- A) 134
- B) 170
- C) 224
- D) 512

QUESTÃO 19

Para fazer um pomar em seu sítio, Emanuel comprou mudas de árvores frutíferas. O gráfico a seguir apresenta a quantidade de mudas que ele comprou.



Com base nas informações apresentadas no gráfico, pode-se afirmar:

- A) O número de mudas de abacateiro é igual à metade do número de mudas de laranjeira.
- B) O número de mudas de bananeira é igual ao número de mudas de mangueira.
- C) O número de mudas de laranjeira é maior que o número de mudas de mangueira.
- D) O número de mudas de mangueira é igual ao dobro do número de mudas de abacateiro.

QUESTÃO 20

Coleta seletiva de lixo é um processo que consiste na separação e recolhimento dos resíduos descartados por empresas e pessoas, e os materiais que podem ser reciclados são separados do lixo orgânico (restos de carne, frutas, verduras e outros alimentos). No sistema de coleta seletiva, os materiais recicláveis são separados em papéis, plásticos, metais e vidros, como apresentado na figura a seguir.



Em uma semana, uma cidade recolheu 1 200 kg de lixo reciclável. Dessa quantidade, sabe-se que metade foi de papel, e a terça parte do restante foi de plástico.

Assim, a quantidade de vidro e metal coletados na cidade nessa semana foi de

- A) 200 kg.
- B) 400 kg.
- C) 600 kg.
- D) 800 kg.

FOLHA DE RESPOSTAS (VERSÃO DO CANDIDATO)

1	A	B	C	D	11	A	B	C	D
	<input type="checkbox"/>	<input type="checkbox"/>	<input type="checkbox"/>	<input type="checkbox"/>		<input type="checkbox"/>	<input type="checkbox"/>	<input type="checkbox"/>	<input type="checkbox"/>
2	A	B	C	D	12	A	B	C	D
	<input type="checkbox"/>	<input type="checkbox"/>	<input type="checkbox"/>	<input type="checkbox"/>		<input type="checkbox"/>	<input type="checkbox"/>	<input type="checkbox"/>	<input type="checkbox"/>
3	A	B	C	D	13	A	B	C	D
	<input type="checkbox"/>	<input type="checkbox"/>	<input type="checkbox"/>	<input type="checkbox"/>		<input type="checkbox"/>	<input type="checkbox"/>	<input type="checkbox"/>	<input type="checkbox"/>
4	A	B	C	D	14	A	B	C	D
	<input type="checkbox"/>	<input type="checkbox"/>	<input type="checkbox"/>	<input type="checkbox"/>		<input type="checkbox"/>	<input type="checkbox"/>	<input type="checkbox"/>	<input type="checkbox"/>
5	A	B	C	D	15	A	B	C	D
	<input type="checkbox"/>	<input type="checkbox"/>	<input type="checkbox"/>	<input type="checkbox"/>		<input type="checkbox"/>	<input type="checkbox"/>	<input type="checkbox"/>	<input type="checkbox"/>
6	A	B	C	D	16	A	B	C	D
	<input type="checkbox"/>	<input type="checkbox"/>	<input type="checkbox"/>	<input type="checkbox"/>		<input type="checkbox"/>	<input type="checkbox"/>	<input type="checkbox"/>	<input type="checkbox"/>
7	A	B	C	D	17	A	B	C	D
	<input type="checkbox"/>	<input type="checkbox"/>	<input type="checkbox"/>	<input type="checkbox"/>		<input type="checkbox"/>	<input type="checkbox"/>	<input type="checkbox"/>	<input type="checkbox"/>
8	A	B	C	D	18	A	B	C	D
	<input type="checkbox"/>	<input type="checkbox"/>	<input type="checkbox"/>	<input type="checkbox"/>		<input type="checkbox"/>	<input type="checkbox"/>	<input type="checkbox"/>	<input type="checkbox"/>
9	A	B	C	D	19	A	B	C	D
	<input type="checkbox"/>	<input type="checkbox"/>	<input type="checkbox"/>	<input type="checkbox"/>		<input type="checkbox"/>	<input type="checkbox"/>	<input type="checkbox"/>	<input type="checkbox"/>
10	A	B	C	D	20	A	B	C	D
	<input type="checkbox"/>	<input type="checkbox"/>	<input type="checkbox"/>	<input type="checkbox"/>		<input type="checkbox"/>	<input type="checkbox"/>	<input type="checkbox"/>	<input type="checkbox"/>

AO TRANSFERIR ESSAS MARCAÇÕES PARA A FOLHA DE RESPOSTAS,
OBSERVE AS INSTRUÇÕES ESPECÍFICAS DADAS NA CAPA DA PROVA.

USE CANETA ESFEROGRÁFICA AZUL OU PRETA.

**ATENÇÃO:
AGUARDE AUTORIZAÇÃO
PARA VIRAR O CADERNO DE PROVA.**